

TOÁN

BÀI 3: SỐ CHẴN, SỐ LẺ



YÊU CẦU CẦN ĐẠT

- Hiểu thế nào là số chẵn, số lẻ
- Nắm được dấu hiệu nhận biết số chẵn, số lẻ





KHỞI ĐỘNG



**TRÒ CHƠI
ĐỒ BẠN**





Đố gì,
đố gì?

Đố bạn,
đố bạn

$$80\ 000 : 4 = ?$$

20 000



$$5\ 000 \times 6 = ?$$


30 000



$$4\ 000 \times 6 : 3 = ?$$

8 000





Chào mừng các em đã đến với nông trại vui vẻ. Hôm nay, các em sẽ được trải nghiệm việc thu hoạch hoa quả. Các em hãy cố gắng vượt qua các thử thách nhé để giúp các bác nông dân thu hoạch được nhiều rau quả nhất nhé!

KHÁM PHÁ

Hương Thảo – Zalo 0972.115.126

a)

Tớ thấy một bên phố ghi các số nhà 10, 12, 14, 16, 18... Bên kia thì ghi các số nhà 11, 13, 15, 17, 19...

Các số đó có đặc điểm gì nhỉ?

Để dễ tìm số nhà, người ta dùng các số chẵn (như 10, 12, 14, 16, 18...) để đánh số nhà ở một bên của dãy phố, bên còn lại người ta dùng các số lẻ (như 11, 13, 15, 17, 19..)



b) Số chẵn, số lẻ

Số chia hết cho 2 là số chẵn

Số không chia hết cho 2 là số lẻ



Có cách nào để dễ nhận biết số chẵn, số lẻ không nhỉ?



Nhận xét:

- Các số có chữ số tận cùng 0, 2, 4, 6, 8 là các số chẵn. Ví dụ: 40, 72, 214, 96, 2 318...
- Các số có chữ số tận cùng 1, 3, 5, 7 là các số lẻ. Ví dụ: 31, 73, 615, 107, 1 909...

Ứng dụng của số chẵn, số lẻ trong cuộc sống





20

21

16

17

18

19

10

11

12

15

6

7

8

9


1

2

3

5







Biển báo P.131b - Cấm đỗ xe ngày lễ (trái) và Biển báo P.131c - Cấm đỗ xe ngày chẵn.

HOẠT ĐỘNG



Thử thách 1: Thu hoạch dưa hấu

Các em hãy hoàn thành bài tập 1 để giúp bác nông dân thu hoạch được những trái dưa hấu to tròn này nhé!



1. Trong các số dưới đây số nào là số chẵn, số nào là số lẻ?

Số chẵn

Số lẻ

12

315

108

71

194

656

649

72

113


107

Chúc mừng bạn đã
thu hoạch xong
vườn dưa hấu

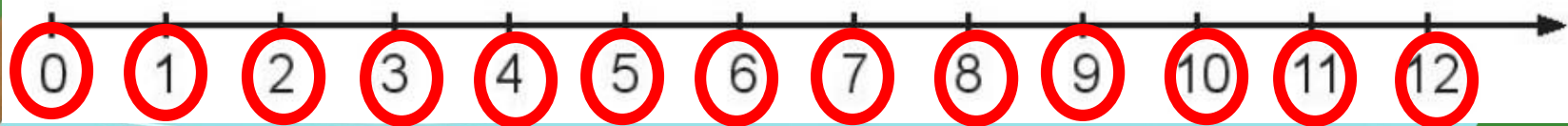


Thử thách 2: Thu hoạch táo


Những trái táo thơm ngon trên cây đã chín rồi, để giúp bác nông dân thu hoạch các em hãy hoàn thành bài tập số 2 nhé!



2. Nêu các số chẵn, số lẻ trong tia số dưới đây.



Hương Thảo - Zalo
0972.115.126



Số chẵn

Số lẻ

Cảm ơn các bạn đã
giúp mình thu
hoạch táo nhé!





CỦNG CỔ

Hoàn thành thử thách
cuối cùng để giúp mình
chất hoa quả lên xe nhé!





A. Số chẵn

B. Số lẻ






A. Số chẵn

B. Số lẻ





**Chúc mừng bạn
đã hoàn thành các
thử thách ngày
hôm nay!**



**Xin chào và
hẹn gặp lại!**



♥ Giáo án điện tử lớp 1, 2, 3, 4 bộ Kết nối tri thức

Liên hệ: Hương Thảo: Zalo 0972.115.126

Link Facebook: <https://www.facebook.com/huongthaoGADT>

Thầy cô copy link FB và dán vào trình duyệt sẽ ra nick của em ạ, hoặc gõ tìm kiếm trên Facebook với tên: huongthaogadt

Các nick giả mạo, chuyên ăn cắp chất xám. Các thầy cô lưu ý.

